









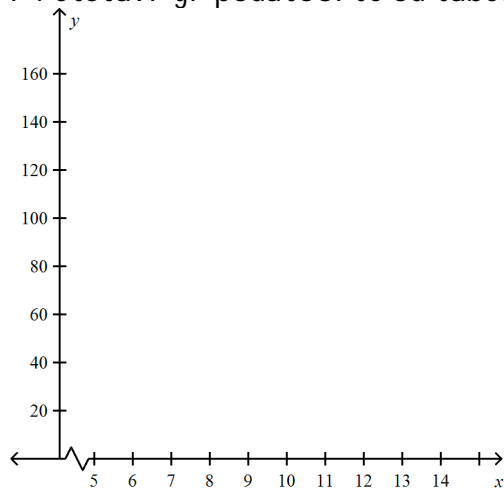


## SHORT ANSWER

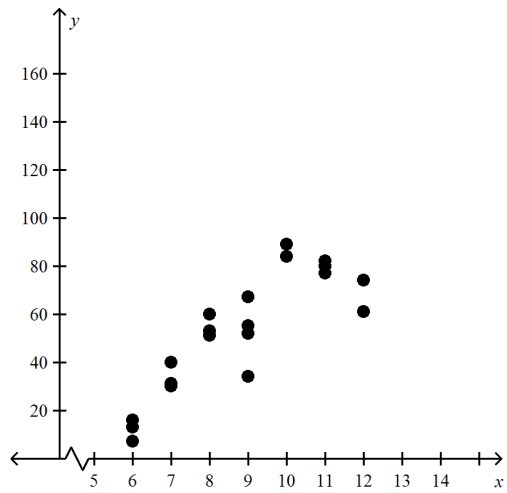
1. Vo tabel ta se navedeni prose-ni te vremi wa na 20 u-eni ci , od { est do dvanaeset godi ni , pomi nati vo pi { uvawe doma{ no vo edna nedel a.

#	voзраст	vreme		#	voзраст	vreme
1	6	13		11	9	67
2	6	16		12	9	55
3	6	7		13	9	52
4	7	40		14	10	84
5	7	30		15	10	89
6	7	31		16	11	82
7	8	51		17	11	80
8	8	53		18	11	77
9	8	60		19	12	74
10	9	34		20	12	61

Pretstavi gi podatoci te od tabel ata na graf i kot !



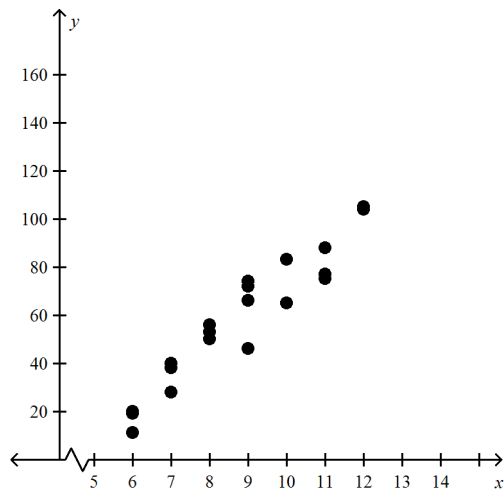
ANS:



PTS: 1                    DIF: Oddelenie 7    REF: SAPV1.0    OBJ: SAPV1.2  
 MSC: LFS&ID

2. Vo tabeli sta se navedeni prosežni te vremenava na 20 u-enci, od šest do dvanaeset godini, pomnati vo pi { uvawe doma{ na vo edna nedel a.

#	voзраст	vreme	#	voзраст	vreme
1	6	20	11	9	72
2	6	19	12	9	66
3	6	11	13	9	74
4	7	40	14	10	65
5	7	28	15	10	83
6	7	38	16	11	88
7	8	56	17	11	77
8	8	50	18	11	75
9	8	53	19	12	105
10	9	46	20	12	104



Dal i mo` e da se zabel e` e rel acija pome|u voзраст i vremenato pomnato vo pi { uvawe doma{ na?  
 Obrazi o` i go odgovorot !

ANS:

Mo` e da se zabel e` e rel acija pome|u voзраст i vremenato pomnato vo pi { uvawe doma{ na !

- Kako { to se zgol emuva voзраст na u-enci te taka i proporci onal no se zgol emuva vremenato pomnato vo pi { uvawe doma{ na !

PTS: 1

DIF: Oddelenie 7

REF: SAPV1.0

OBJ: SAPV1.2

MSC: LFS&ID