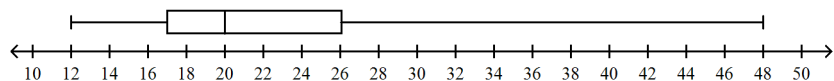


**MULTIPLE CHOICE**

1. Na graf i kot se pretstaveni ceni te na dvaeset avtomati za pukanki (spored Consumer Reports Buying Guide, 1991).

Pri bli`no kol ku ~i ni najskapi ot avtomat za pukanki ?

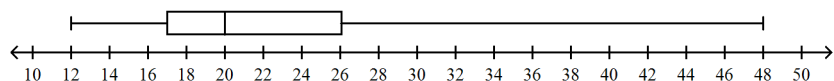


- a. 48  
b. 50  
c. 49  
d. 46

ANS: A            PTS: 1

2. Na graf i kot se pretstaveni ceni te na dvaeset avtomati za pukanki (spored Consumer Reports Buying Guide, 1991).

Pri bli`no kol ku ~i ni najevti ni ot avtomat za pukanki ?

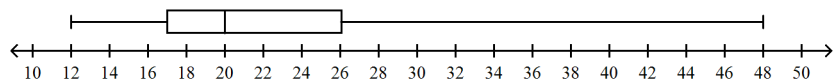


- a. 12  
b. 10  
c. 17  
d. 14

ANS: A            PTS: 1

3. Na graf i kot se pretstaveni ceni te na dvaeset avtomati za pukanki (spored Consumer Reports Buying Guide, 1991).

Pri bli`no kol ku e medi janata na ceni te na avtomati te za pukanki ?



- a. 20  
b. 22  
c. 26  
d. 17

ANS: A            PTS: 1



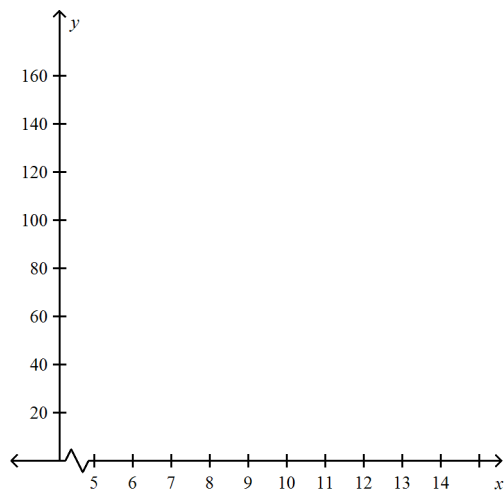


## SHORT ANSWER

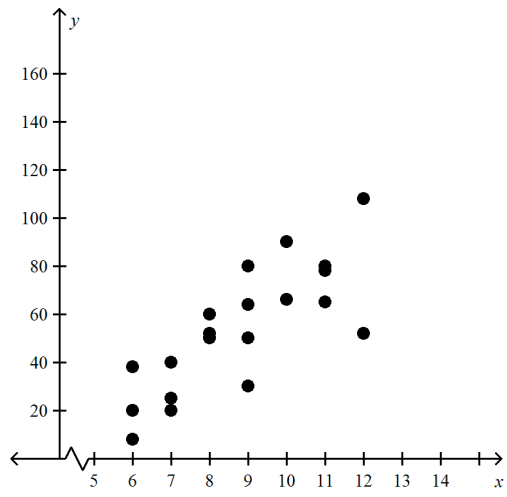
1. Vo tabel ta se navedeni prose-ni te vremi wa na 20 u-eni ci , od { est do dvanaeset godi ni , pomi nati vo pi { uvawe doma{ no vo edna nedel a.

#	voзраст	vreme		#	voзраст	vreme
1	6	8		11	9	64
2	6	20		12	9	80
3	6	38		13	9	50
4	7	20		14	10	66
5	7	25		15	10	90
6	7	40		16	11	78
7	8	50		17	11	65
8	8	60		18	11	80
9	8	52		19	12	52
10	9	30		20	12	108

Pretstavi gi podatoci te od tabel ata na graf i kot !



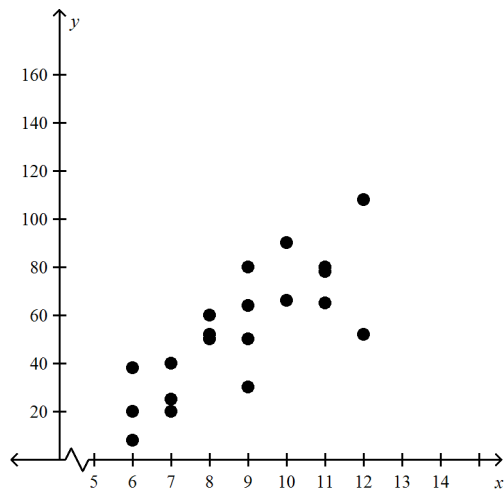
ANS:



PTS: 1

2. Vo tabel ta se navedeni prose~ni te vrema na 20 u~eni ci , od { est do dvanaeset godi ni , pomi nati vo pi { uvawe doma{ na vo edna nedel a.

#	voзраст	vreme	#	voзраст	vreme
1	6	8	11	9	64
2	6	20	12	9	80
3	6	38	13	9	50
4	7	20	14	10	66
5	7	25	15	10	90
6	7	40	16	11	78
7	8	50	17	11	65
8	8	60	18	11	80
9	8	52	19	12	52
10	9	30	20	12	108



Dal i mo` e da se zabel e` e rel aci ja pome|u voзрастa i vremeto pomi nato vo pi { uvawe doma{ na ?

Obrazl o` i go odgovorot !

ANS:

Mo` e da se zabel e` e rel aci ja pome|u voзрастa i vremeto pomi nato vo pi { uvawe doma{ na !

- Kako { to se zgol emuva voзрастa na u~eni ci te taka i proporci onal no se zgol emuva vremeto pomi nato vo pi { uvawe doma{ na !

PTS: 1